


✓ Je résous des problèmes avec les euros :  
addition et soustraction.

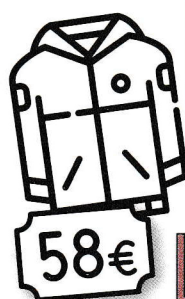

1 Entoure les pièces et les billets pour obtenir exactement la somme demandée.



$$26\text{€} = 20\text{€} + 5\text{€} + 1\text{€}$$



$$47\text{€} = \dots$$



$$34\text{€} = \dots$$

$$58\text{€} = \dots$$